





















Nom de l'équipe

Equipe n° :

Points :
 (cadre réservé à SCHEMA)

05 : DES CREUX ET DES BOSSES

Année cataclysmique oblige, saurez-vous reconnaître les volcans, failles et caldeiras suivants ?
 Sous chaque vue, inscrivez la lettre correspondant au nom de l'élément.

Eléments visuels				
				
				
				
				

Noms							
A	Etna	G	Kilimandjaro	M	Orodruin	S	Santorin
B	Eyjafjöll	H	Krakatoa	N	Piton de la Fournaise	T	Stromboli
C	Fuji	I	Montagne pelée	O	Popocatépetl	U	Vésuve
D	Grand Canyon	K	Mont St Helens	P	Puy-de-Dôme	W	Vulcano
E	Grand Rift	L	Olympus Mons	R	San Andreas	X	Yellowstone